

نام و نام خانوادگی :

۱- ارزش سکه ها را بنویس.



ریال .....

۲- جمع و تفریق را به صورت تکنیکی (انتقال) انجام بده.

$$\begin{array}{r} 456 \\ + \\ 185 \\ \hline \end{array}$$

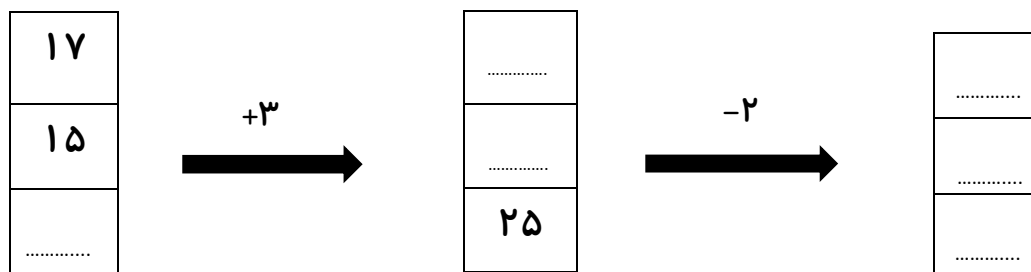
$$\begin{array}{r} 790 \\ - \\ 248 \\ \hline \end{array}$$

۳- ابتدا عدد ها را به صورت تقریبی بنویس، سپس عدد های تقریبی را جمع و تفریق کن.

$$\begin{array}{r} 61 \\ - \\ 25 \\ \hline \end{array}$$

$$\begin{array}{r} 48 \\ + \\ 13 \\ \hline \end{array}$$

۴- جاهای خالی را کامل کن.



۵- رضا ۲۵۰ ریال از پول خود را خرج کرد. اگر رضا ۵۴۰ ریال پول داشته باشد، چند ریال از پول او باقی مانده است؟

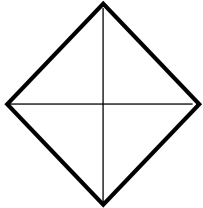
۶- جملات را کامل کنید.



..... دسته ی ..... تایی می شود .....

..... دسته ی ..... تایی می شود .....

۷- کامل شود.



۲ قسمت از ۴ قسمت مساوی



..... قسمت از ..... قسمت مساوی

۸- در جای خالی علامت  $< = >$  قرار دهید.

۳۳۹  ۷۶۳

۲۰۰ + ۲۰ + ۷  ۲۲۷

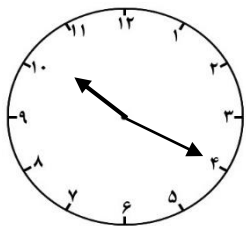
۴۱۴  ۱۴۱

۵۰ + ۵۰ + ۱۰۰ + ۳  ۲۰۰ + ۲۰ + ۵

۹- الگوهای زیر را ادامه بده.

..... و ..... و ..... و ..... و ..... و ..... و ۱۳۲ و ۱۳۴ و ۱۳۶ و ۱۳۸ و .....

..... و ..... و ..... و ..... و ..... و ..... و ۵۵ و ۶۰ و ۶۵ و .....



۱۰- ساعت چند است ؟ .....

نیم ساعت بعد ساعت چند است ؟ .....

..... دقیقه از ..... گذشته .....

۱۱- جمع و تفریق های زیر را فرآیندی انجام بده.

$$\begin{array}{r} 457 \\ + \\ 221 \\ \hline \end{array}$$

$$\begin{array}{r} 532 \\ - \\ 221 \\ \hline \end{array}$$

۱۲- با سه کارت که روی هر کدام یکی از رقم های ۳ - ۵ - ۸ نوشته شده است ، تمام عددهای سه رقمی را که می توان ساخت را بنویس . دور بزرگترین عدد دایره بکش.

۳	۵	۸
---	---	---

.....

۱۳- پاسخ بده.

۹ سانتی متر یعنی ..... میلی متر

۵ سانتی متر و ۸ میلی متر یعنی ..... میلی متر

۱۹ میلی متر یعنی ..... سانتی متر و ..... میلی متر

۱۴- اعداد زیر را به رقم و حروف بنویس.

پانصد و هفتاد ..... ۶۰۲ .....

ششصد و نود و یک ..... ۹۴۰ .....

خیلی کم	کم	متوسط	تسلط خوب	تسلط کامل	سطوح عملکرد ملاک و شواهد
					شناخت ارزش پول
					جمع و تفریق تکنیکی
					تقریب اعداد سه رقمی
					جدول جمع و تفریق دو رقمی
					حل مسئله
					مفهوم ضرب
					مفهوم تساوی کسر
					تشخیص <=>
					الگوی عددی
					شناخت ساعت
					شناخت سانتی متر و میلی متر
					ساخت اعداد سه رقمی
					جمع و تفریق قرآیندی
					به رقم و حروف نویسی

سربلند باشی عزیزم



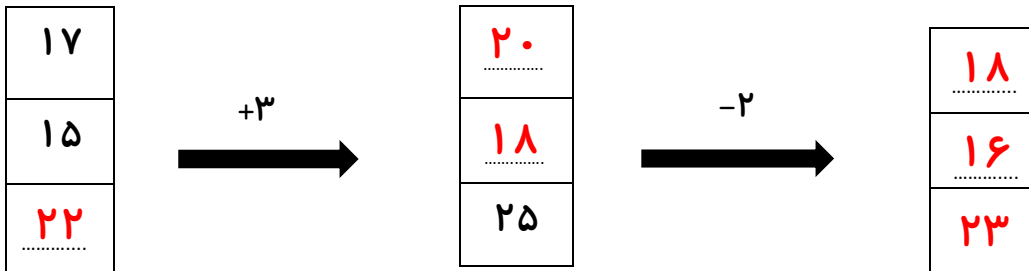
۱- ..... ۳۶۲ ریال

$$\begin{array}{r} 456 \\ + 185 \\ \hline 641 \end{array}$$

$$\begin{array}{r} 790 \\ - 248 \\ \hline 542 \end{array}$$

۳- 
$$\begin{array}{r} 61 \\ - 25 \\ \hline \end{array}$$
      
$$\begin{array}{r} 48 \\ + 13 \\ \hline \end{array}$$

Handwritten annotations in red: ۶۰, ۳۰, ۳۰, ۵۰, ۱۰, ۶۰. Arrows indicate the borrowing process.



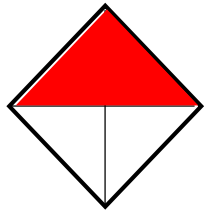
$$\begin{array}{r} 540 \\ - 250 \\ \hline 290 \end{array}$$

۵- ۲۹۰ ریال برایش باقی مانده است



۶- جملات را کامل کنید.

..... ۳ دسته ی ..... ۵ تایی می شود ..... ۱۵  
 ..... ۵ دسته ی ..... ۳ تایی می شود ..... ۱۵



۲ قسمت از ۴ قسمت مساوی



۳ قسمت از ..... ۸ قسمت مساوی

۷- کامل شود.

-۸

۳۳۹ < ۷۶۳

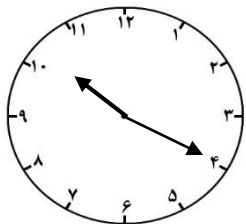
۲۰۰ + ۲۰ + ۷ = ۲۲۷

۴۱۴ > ۱۴۱

۵۰ + ۵۰ + ۱۰۰ + ۳ < ۲۰۰ + ۲۰ + ۵

-۹

۱۳۲ و ۱۳۴ و ۱۳۶ و ۱۳۸ و ..... و ..... و ..... و ..... و .....  
 ۱۴۰ ۱۴۲ ۱۴۴ ۱۴۶ ۱۴۸  
 ۵۵ و ۶۰ و ۶۵ و ..... و ..... و ..... و ..... و .....  
 ۷۰ ۷۵ ۸۰ ۸۵ ۹۰



۱۰- ساعت چند است ؟ ..... ۱۰ : ۲۰ .....

..... ۲۰ دقیقه از ..... ۱۰ گذشته

-نیم ساعت بعد ساعت چند است ؟ ..... ۱۰ : ۵۰ .....

۱۱- جمع و تفریق های زیر را فرآیندی انجام بده.

$$\begin{array}{r} 457 \\ + \\ 221 \\ \hline 678 \\ + \\ 657 \\ + \\ 21 \\ \hline 677 \\ + \\ 1 \\ \hline 678 \end{array}$$

$$\begin{array}{r} 532 \\ - \\ 221 \\ \hline 311 \\ - \\ 332 \\ - \\ 21 \\ \hline 312 \\ - \\ 1 \\ \hline 311 \end{array}$$

۱۲- با سه کارت که روی هر کدام یکی از رقم های ۳ - ۵ - ۸ نوشته شده است ، تمام عددهای سه رقمی را که می توان ساخت را بنویس . دور بزرگترین عدد دایره بکش.

۳	۵	۸
---	---	---

۳۵۸-۳۸۵-۵۳۸-۵۸۳-۸۳۵-۸۵۳

۱۳- پاسخ بده.

۹۰  
۹ سانتی متر یعنی ..... میلی متر

۵۸  
۵ سانتی متر و ۸ میلی متر یعنی ..... میلی متر

۹  
۱۹ میلی متر یعنی ..... سانتی متر و ..... میلی متر

۱۴- اعداد زیر را به رقم و حروف بنویس.

ششصد و دو ..... ۶۰۲

۵۷۰  
پانصد و هفتاد .....

نهصد و چهل ..... ۹۴۰

۶۹۱  
ششصد و نود و یک .....

جروه سپی